

گراد

[موسسه تخصصی]

# تازه‌ترین طعم‌ستانه

## روزگاران

پایه‌ی دوم

ورودی به پایه‌ی سوم

خلاصه‌ای از تمام فصل‌های کتاب



پایه دوم ابتدایی ورودی به پایه


## قرآن




۱ کلمات زیر را بلند بخوانید و مانند نمونه بنویسید .

آ	د	م	←	آدَمَ
.....	.....	.....	←	هَذَا
.....	.....	.....	←	قَالَ

۲ در پیام قرآنی زیر دو صفت خداوند را پیدا کرده و دور آن را خط بکشید و معنی آن را بنویسید .



هُوَ الرَّحْمَنُ الرَّحِيمُ



۳ نازنینم عبارتهای قرآنی زیر را بلند و زیبا برای خانوادهات بخوان .



صُحِّفِ اِبْرَاهِيْمَ و موسى

اِصْبِرُوا و صَابِرُوا و رَابِطُوا



## ریاضی

۱) شکل‌های زیر را بشمار و دسته‌های ده‌تایی درست کن و در جدول قرار بده .



ده‌تایی	یکی
.....	.....

۲) با رقم‌های (۷ و ۴) چند عدد دورقمی می‌توان نوشت ؟

۳) مریم ۱۸ مداد دارد ۴ تا از مداد هایش سبز و ۸ تای دیگر آن‌ها نارنجی است . مریم چند مداد آبی دارد ؟ ( با شکل )

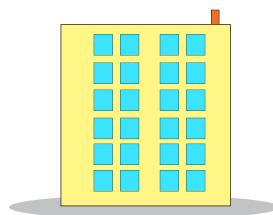


۴) با توجه به محور به سوالات زیر پاسخ بده .



قورباغه کوچولو برای جهش از الگوی چندتا چندتا استفاده کرده است ؟  
 قورباغه کوچولو با چند جهش می‌تواند به پایان محور برسد . ( روی محور نشان بده )  
 الگویی که محور نشان می‌دهد را بنویس .....

۵) ساختمانی ۶ طبقه دارد و در هر طبقه ۴ واحد وجود دارد این ساختمان چند واحد دارد؟





۵ تصویر زیر را رنگ آمیزی کن و دور کلمه‌هایی که نشانه‌ی آخر آن‌ها مثل کلمه‌ی «دقیقاً» است خط بکش. حالا کلمه‌ها را با صدای بلند بخوان.



## ریاضی

۱ جمع و تفریق‌های زیر را به صورت فرایندی انجام دهید.

$$\begin{array}{r} 23 \\ + \\ 46 \\ \hline \\ \hline \\ + \\ \hline \\ \hline \end{array}$$

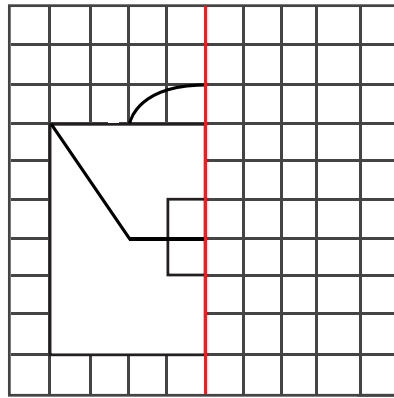
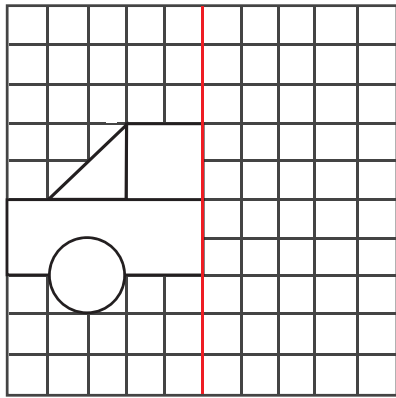
$$\begin{array}{r} 46 \\ + \\ 32 \\ \hline \\ \hline \\ + \\ \hline \\ \hline \end{array}$$

$$\begin{array}{r} 97 \\ - \\ 52 \\ \hline \\ \hline \\ - \\ \hline \\ \hline \end{array}$$

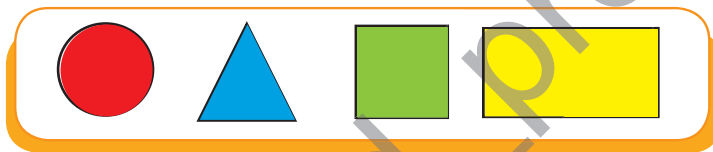
$$\begin{array}{r} 75 \\ - \\ 23 \\ \hline \\ \hline \\ - \\ \hline \\ \hline \end{array}$$



۶) فرزندم طرف دیگر تصاویر را کامل کن و رنگ آمیزی کن .




۷) شکل هایی را که در تصویر پایین هستند در شکل اصلی پیدا کن و با همان رنگ ، رنگ آمیزی کن .



شکل مستطیل ..... ضلع و ..... گوشه دارد . شکل مثلث ..... ضلع و ..... گوشه دارد .

شکل مربع ..... ضلع و ..... گوشه دارد . شکل دایره ..... ضلع و ..... گوشه دارد .






۵ با استفاده از این کارت‌ها تمام اعداد ۳ رقمی را بسازید و بنویسید.

۳ ۸ ۲


۶ فرزندم! اعداد زیر را به صورت باز شده بنویس.



۷ ستاره امروز ساعت ۳:۱۵ دقیقه به بازار رفت تا چند کارت تبریک برای دوستانش بخرد. او بعد از ۳۰ دقیقه به خانه برگشت. حالا می‌توانی بگویی که ستاره چه ساعتی به منزل رسیده است؟



ساعتی که ستاره از خانه خارج شد روی ساعت نشان بده.



ساعتی را که ستاره به خانه رسیده است را روی ساعت نشان بده.

### بازی و سرگرمی







یک مربع که طول هر ضلع آن ۱۰ سانتی‌متر باشد انتخاب کن. کاغذ مربع شکل را از روی نقطه چین تا بزنید سپس طرح سمت راست (کفش دوزک) را روی مثلث به دست آمده بکشید و قسمت‌های سفید اضافی را با قیچی جدا کنید و کاغذ را باز کنید.



می‌توانید شکل را رنگ آمیزی کنید و شکل دیگری هم به جای کفش دوزک انتخاب کنید.



۲) اهل بیت پیامبر را نام ببرید.



۳) در کدام قسمت نماز بر حضرت محمد (ص) صلوات فرستاده می شود؟

سجده  رکوع  تشهد  سلام

۴) اگر تو به جای آن بچه ها بودی و می خواستی در مقابل کمک حضرت علی (ع) از ایشان تشکر کنی چه جمله ی زیبایی می نوشتی؟



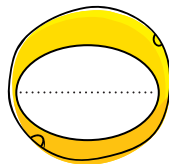
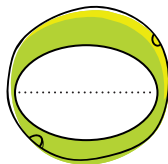
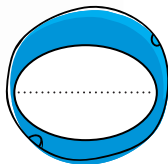
علوم

۱) دود ماشین ها برای ما و گیاهان و جانوران چه ضررهایی دارد؟ در زیر بنویس.



برای جانوران


برای گیاهان



۲) قسمت های اصلی دانه را نام ببرید.



۴) فرزند دانای من نام سوره‌هایی که «قل» دارد را داخل گل‌ها بنویس.



هدیه

۱) دل‌بندم، در شکل‌های زیر موارد خواسته‌شده را در مورد حضرت علی (ع) را بنویس.



۲) عزیزم! سوالات را بخوان و با کشیدن خط پاسخ مناسب را نشان بده.

- |        |   |
|--------|---|
| معاویه | الف) نام شهری که معاویه در آن حکومت می‌کند.   |
| پیامبر | ب) دشمن امام حسن (ع) ..... بود.               |
| شام    | ج) رفتار و اخلاق امام حسن (ع) شبیه ..... بود. |





کباب کوبیده	ماست	زیتون	نان	دوغ	گوشت سفید	سالاد	برنج
							منابع جانوری
							منابع گیاهی

## فارسی



۱ کدام گزینه با سایرین متفاوت است.

درمان

دختران

دستان

دشمنان

۲ هر کلمه را به کلمه‌ی مربوط به خودش وصل کن.

ب	الف
تهران	آرامگاه حافظ
شیراز	ماسوله
اصفهان	برج میلاد
گیلان	سی‌وسه‌پل


۳ کلمه‌های زیر را با «گاه» ترکیب کن و معنی آن را بنویس.

..... = زیارت + گاه

..... = ورزش + گاه



۳ فرشته ی زیبای من سه خوراکی را که در منزل داری انتخاب کن و بنویس که آن ها را در کجا نگهداری کنیم تا برای مدت بیشتری سالم بمانند.



۴ فرزندم تصاویر زیر را که مراحل تهیه نان در آن نمایش داده شده به ترتیب شماره گذاری کن.



## فارسی

۱ فرزندم کلمه هایی را که در این جدول نوشته شده است یک بار با «ها» و یک بار با «ان» جمع ببینید.



ان	ها
.....	.....
.....	.....
.....	.....

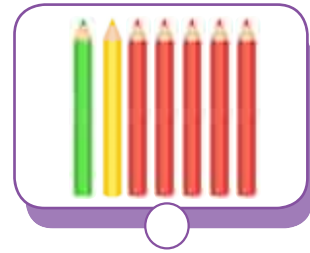

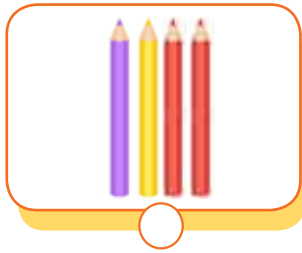

فرشته

گذشته

ستاره



۲ احتمال انتخاب مداد قرمز در کدام خانه بیشتر است؟



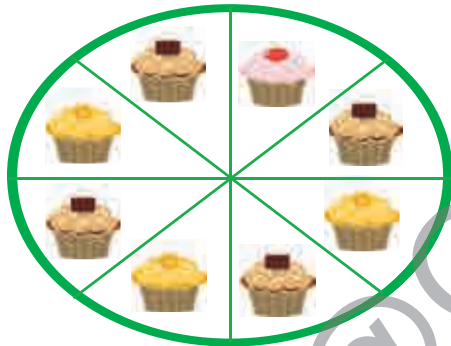
۳ فرزندم با توجه به شکل‌ها جاهای خالی را با عدد مناسب کامل کن.



..... دسته‌ی ..... تایی که می‌شود ..... تا

..... دسته‌ی ..... تایی که می‌شود ..... تا

۴ تصویر روبرو یک سینی چرخان کیک لیوانی را نشان می‌دهد که آقای حسینی آن را با چند نوع کیک پر کرده است.



چه کسری از شکل سینی کیک پرتقالی است؟ ..... قسمت از ..... قسمت مساوی

چه کسری از شکل سینی کیک شکلاتی است؟ ..... قسمت از ..... قسمت مساوی


چه کسری از شکل سینی کیک آلبالویی است؟ ..... قسمت از ..... قسمت مساوی

اگر سینی را بچرخانیم بعد از این که از چرخش ایستاد کدام کیک به احتمال بیشتر روبروی آقای حسینی قرار می‌گیرد؟ ..... چرا؟ .....



پکیج ویژه دوم ابتدایی

انتشارات گراد



گراد  
[ گروه آموزشی ] [ GRAD ]

مدیریت فروش: ۰۹۱۹۰۲۰۴۱۵۱  
[www.gradpress.ir](http://www.gradpress.ir)